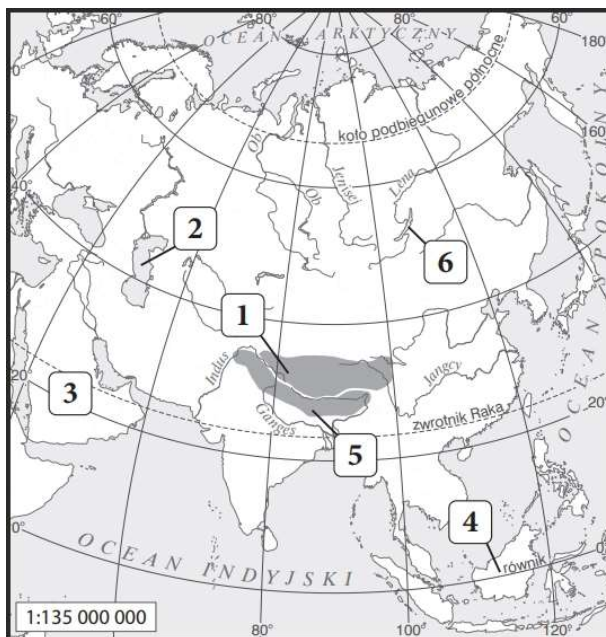


AZJA

Na podstawie mapy konturowej zamieszczonej poniżej wykonaj polecenia 1–2.



- Zaznacz na mapie odpowiednimi literami obiekty geograficzne wymienione poniżej.
A. Jezioro Aralskie.
B. Półwysep Kamczatka.
C. Wyżyna Środkowosyberyjska.
D. Nizina Mezopotamska.
E. Rzeka Indus.
- Wpisz do tabeli nazwy wskazanych obiektów geograficznych oznaczonych na mapie numerami.

| NUMER NA MAPIE | NAZWA OBIEKTU GEOGRAFICZNEGO |
|----------------|------------------------------|
| 2. | |
| 3. | |
| 5. | |

- Zaznacz prawidłowe dokończenie zdania.
Położenie obszaru w obrębie Ognistego Pierścienia Pacyfiku **nie jest** przyczyną występowania tam
A. Tsunami. B. Trzęsień ziemi. C. Tajfunów. D. Wybuchów wulkanów.

4. Skreśl w zdaniach błędne informacje.

A. W wyniku kolizji płyty oceanicznej z płytą kontynentalną powstają *góry fałdowe / zrębowe*.

B. Trzęsienia ziemi i aktywność wulkaniczna są *przyczyną / skutkiem* ruchu płyt litosfery.

C. W ostatnich latach tsunami spowodowało duże szkody oraz straty w ludziach *na Sumatrze i w Japonii / na Haiti i w Stanach Zjednoczonych*.

5. Wyjaśnij, dlaczego Indie nie są ważnym producentem wołowiny, mimo że mają największe pogłowie bydła na świecie.

.....

.....

.....

.....

.....

6. Podkreśl cechy opisujące ludność Chin.

wyraźna hierarchiczność w firmach, przewaga mężczyzn, program kontroli urodzeń, wykształcona anglojęzyczna kadra pracownicza, stroje kobiece zakrywające ciało, niski współczynnik przyrostu naturalnego

7. Podaj dwie przyczyny dużej gęstości zaludnienia we wschodniej części Chin.

.....

.....

8. Przyporządkuj wymienionym państwom odpowiednie terminy i nazwy geograficzne.

Fudzi, kraj wyspiarski, Silicon Plateau, Wyżyna Tybetańska, zielona rewolucja

Chiny:

Indie:

Japonia:

9. Przyporządkuj zdaniom właściwe odpowiedzi (A–C) wybrane spośród podanych.

Większość mieszkańców Bliskiego Wschodu wyznaje 9.1.

Kraje Bliskiego Wschodu eksportujące ropę naftową należą do 9.2.

Aby uniezależnić gospodarkę od wydobycia surowców energetycznych, rozwija się na tym obszarze 9.3.

9.1. A. islam, B. judaizm, C. katolicyzm

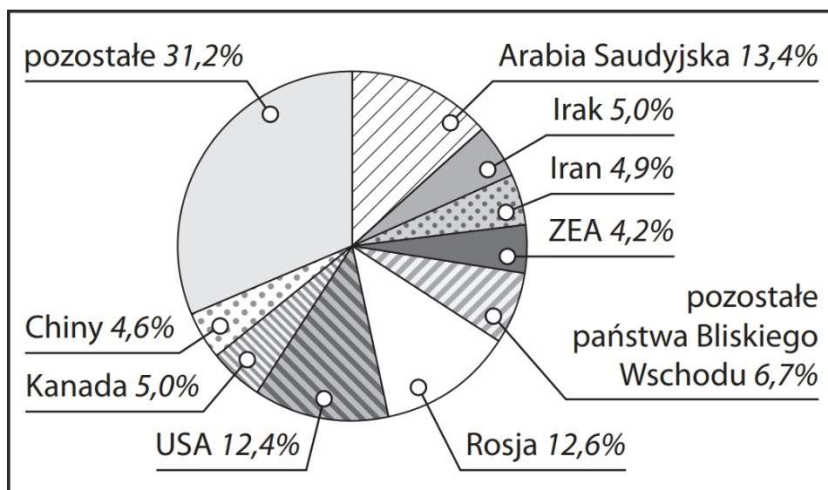
9.2. A. OECD, B. UE, C. OPEC

9.3. A. rolnictwo, B. przemysł samochodowy, C. turystyk

10. Wymień dwa skutki toczących się konfliktów na Bliskim Wschodzie.

.....
.....

11. Na podstawie wykresu przedstawiającego udział państw w światowych zasobach ropy naftowej w 2016 roku uzupełnij zdania.



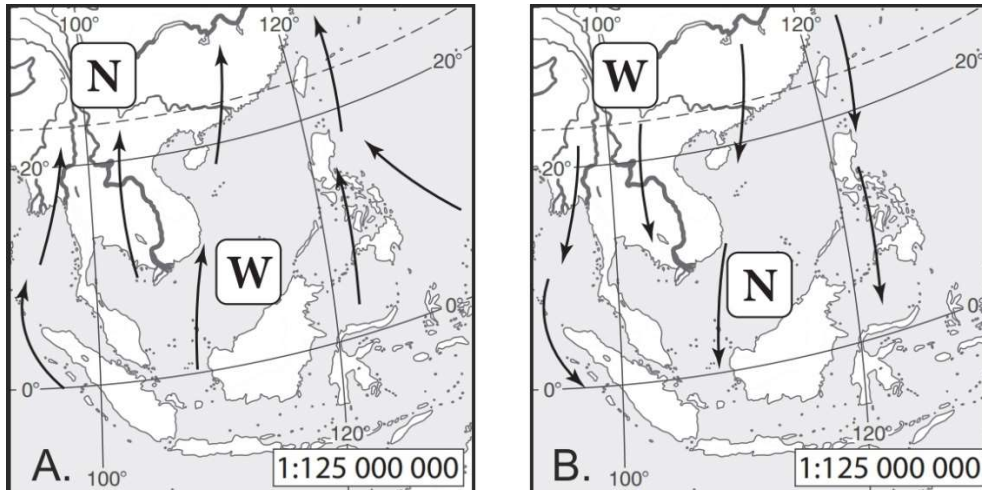
a) Udział państw Bliskiego Wschodu w światowych rezerwach ropy naftowej wynosi około %.

b) Poza obszarem Bliskiego Wschodu w 2016 roku największe rezerwy ropy naftowej były w i

12. Wymień trzy cechy chińskiego rolnictwa.

.....
.....
.....

13. Na podstawie ilustracji oceń prawdziwość podanych informacji. Zaznacz P, jeśli informacja jest prawdziwa, lub F, jeśli jest fałszywa.




- A. Na ilustracji A nad oceanem tworzy się układ wysokiego ciśnienia. P / F
- B. Na ilustracji B zaznaczono monsun zimowy. P / F
- C. Monsun letni przynosi wilgotne powietrze znad oceanu. P / F

14. Zaznacz prawidłowe dokończenie zdania.

W krajach azjatyckich produkuje się największą na świecie ilość

- A. kawy i herbaty.
- B. trzciny cukrowej i kakao.
- C. pszenicy i soi.
- D. ryżu i herbaty.

15. Na fotografiach przedstawiono charakterystyczne obiekty Azji. Podaj nazwy państw, na których terenie się one znajdują.



Państwo: Państwo: