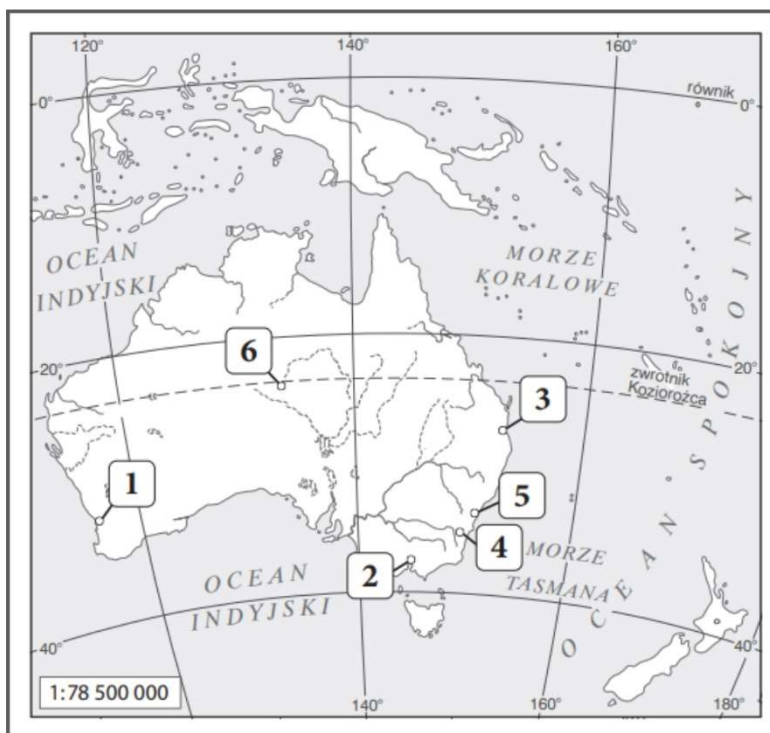


AUSTRALIA I OCEANIA. OBSZARY OKOŁOBIEGUNOWE

1. Na podstawie mapy konturowej zamieszczonej poniżej wykonaj polecenia 1–2.



→ Zaznacz literami obiekty geograficzne, których nazwy podano poniżej.

- A. Zatoka Karpentaria.
- B. Przylądek Jork.
- C. Tasmania.
- D. Cieśnina Torresa.
- E. Wielkie Góry Wododziałowe.

→ Wpisz do tabeli właściwe nazwy miast zaznaczonych na mapie numerami (1–6), a następnie zamaluj sygnaturę oznaczającą największe miasto Australii.

Nr na mapie	Nazwa miasta
1.
4.

2. Uzupełnij zdanie, wpisując odpowiednią informację.

Najwyższym punktem Antarktydy jest
o wysokości 4892 m n.p.m.

3. Wpisz podane nazwy we właściwe miejsce.

*niedźwiedź polarny, Grenlandia, Morze Weddella, pingwin,
Morze Beauforta, Płaskowyż Polarny*

Arktyka –

.....

Antarktyka –

.....

4. Wyjaśnij znaczenie terminu *endemit*.

.....

.....

.....

5. Oceń prawdziwość informacji. Zaznacz P, jeśli informacja jest prawdziwa, lub F, jeśli jest fałszywa.

→ Australia leży w trzech strefach klimatycznych, a strefa klimatów podzwrotnikowych znajduje się w północnej części kontynentu. P / F

→ Rdzenną ludność Australii stanowią Aborygeni. P / F

→ Około 75% osób zatrudnionych w Australii pracuje w usługach. P / F

6. Zaznacz podpunkt, w którym prawidłowo zestawiono nazwę regionu Oceanii z położonymi w nim wyspami.

A. Mikronezja – Wyspy Marshalla.

B. Melanezja – Kiribati.

C. Polinezja – Wyspy Salomona.

D. Nowa Zelandia – Wyspy Cooka.



7. Zaznacz prawidłowe dokończenie zdania.

W centralnej Australii wydobywa się głównie:

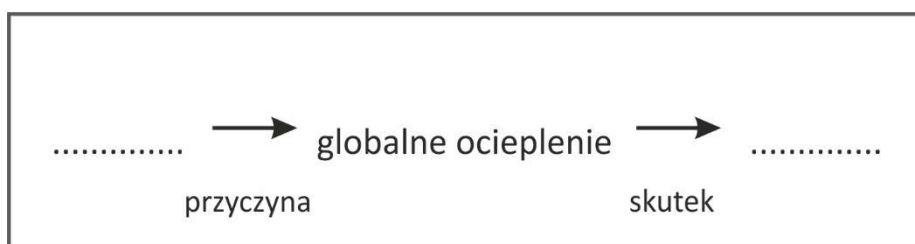
- A. rudy żelaza i manganu.
- B. boksyty i złoto.
- C. szmaragdy i szafiry.
- D. ropę naftową i gaz ziemny.

8. Skreśl w zdaniach błędne informacje na temat Arktyki i Antarktyki.

- A. Wokół bieguna północnego rozciąga się *Arktyka / Antarktyka*.
- B. Grubość lądolodu na Antarktydzie dochodzi do *840 / 4800* metrów.
- C. Znaczną część Oceanu Arktycznego pokrywa *lądolód / pak lodowy*.

9. Uzupełnij schemat, wpisując we właściwe miejsca litery oznaczające przyczynę i skutek globalnego ocieplenia. Następnie wyjaśnij znaczenie terminu *globalne ocieplenie*.

- A. Nadmierna emisja freonów.
- B. Podniesienie poziomu wszechoceanu.
- C. Emisja znacznych ilości tlenku węgla(IV) i metanu.
- D. Przyspieszenie procesu starzenia się skóry.



Globalne ocieplenie -

.....

.....

.....

.....

.....

10. Zaznacz prawidłowe dokończenie zdania.

Jako pierwszy do bieguna południowego dotarł

- A. Marek Kamiński w 1995 roku.
- B. Roald Amundsen w 1898 roku.
- C. Roald Amundsen w 1911 roku.
- D. Robert E. Peary w 1909 roku.

11. Podaj dwie zasady zawarte w Układzie Antarktycznym.

→

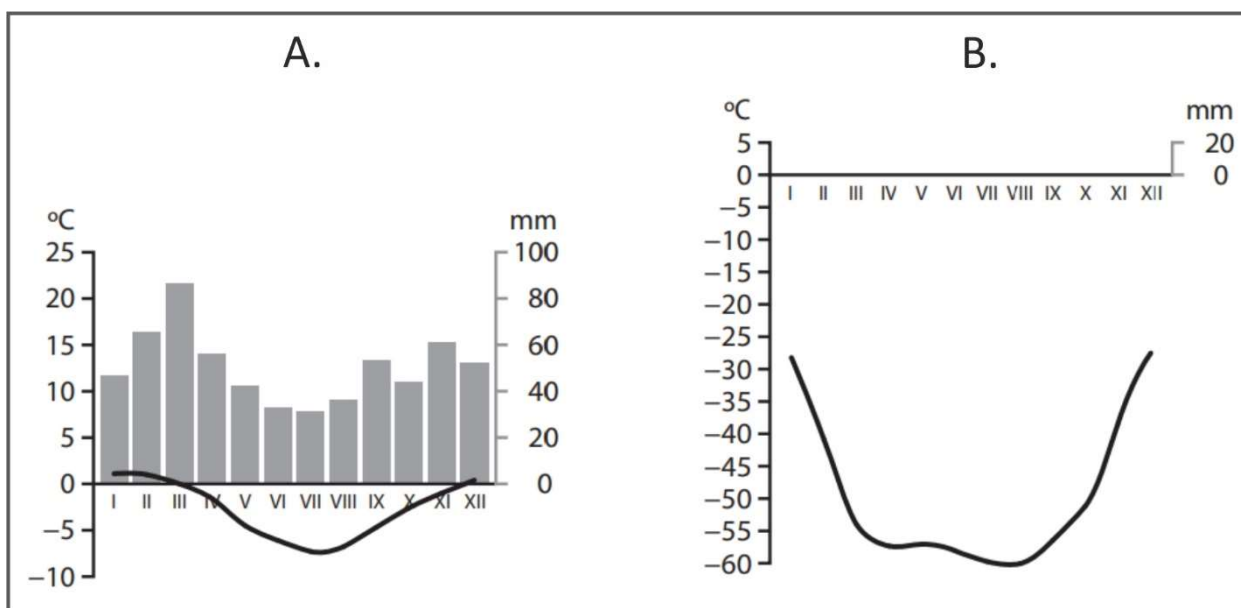
→

12. Wymień dwa walory turystyczne Australii i Oceanii, które przyciągają turystów w te rejony świata.

→

→

13. Na podstawie diagramów klimatycznych sporządzonych dla stacji znajdujących się na Antarktydzie wykonaj polecenia.



→ Wymień dwie cechy wspólne klimatu dla stacji A i B

.....

.....

→ Uzupełnij zdanie.

Na wybrzeżu Antarktydy jest położona stacja, o czym świadczy

.....

14. Określ, na których z podanych obszarów wykonano poniższe fotografie.

Australia, Arktyka, Antarktyda, Oceania



.....



.....