

PROCENTY I UŁAMKI

1. Zamień podane procenty na ułamki:

- | | | | |
|--------|---------|----------|---------|
| a) 12% | b) 3,6% | c) 0,92% | d) 224% |
| e) 36% | f) 2,4% | g) 0,54% | h) 156% |
| i) 32% | j) 5,2% | k) 0,86% | l) 218% |

2. 0,3 tortu to:

- A. 30% tortu B. 3% tortu C. $\frac{1}{3}$ % tortu D. 0,3% tort

3. 0,4 tortu to:

- A. 40% tortu B. 4% tortu C. $\frac{1}{4}$ % tortu D. 0,4% tort

4. Koło podzielono na pięć równych części, z których jedną część zamalowano. Jaki procent koła pozostał niezamalowany?

- A. 80% B. 20% C. 25% D. 75%


5. Koło podzielono na pięć równych części, z których dwie części zamalowano. Jaki procent koła pozostał niezamalowany?

- A. 40% B. 60% C. 25% D. 75%

6. Koło podzielono na pięć równych części, z których cztery części zamalowano. Jaki procent koła pozostał niezamalowany?

- A. 80% B. 25% C. 75% D. 20

7. Na rysunku zamalowano pewną część prostokąta.



Część ta stanowi:

- A. 25% prostokąta B. 50% prostokąta
C. 30% prostokąta D. 70% prostokąta

8. Na rysunku zamalowano pewną część prostokąta.

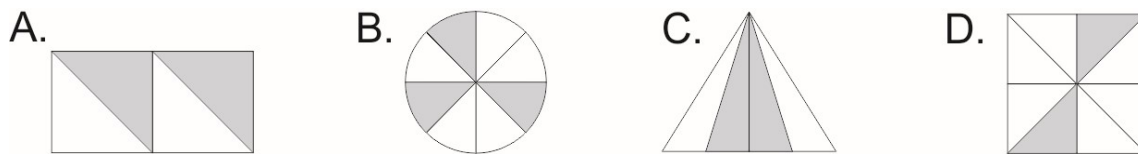


Część ta stanowi:

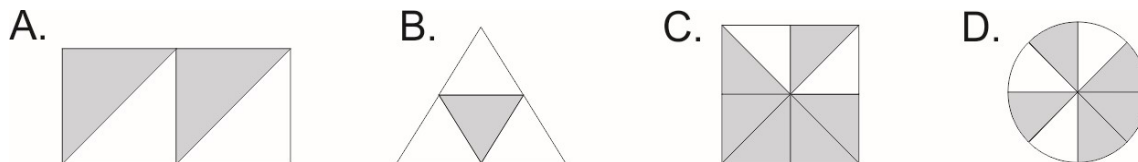
- A. 25% prostokąta B. 50% prostokąta
C. 30% prostokąta D. 70% prostokąta



9. Rysunek, na którym zacieniowano 25% figury, to rysunek:



10. Rysunek, na którym zacieniowano 25% figury, to rysunek



11. Staś ma 40 zł, a jego młodszy brat 80% tej kwoty. Razem mają:

- A. 72 zł B. 43,20 zł C. 48 zł D. 120 zł

12. Staś ma 30 zł, a jego młodszy brat 60% tej kwoty. Razem mają:

- A. 36 zł B. 42 zł C. 31,80 zł D. 48 zł

13. W gospodarstwie pana Nowaka jest 35 owiec, 42 krowy, 28 królików, 30 kur i 5 psów. Króliki w tym gospodarstwie stanowią:

- A. 28% wszystkich zwierząt B. 20% wszystkich zwierząt
C. 30,8% wszystkich zwierząt D. 5% wszystkich zwierząt

14. W gospodarstwie pana Kowalskiego jest 40 owiec, 30 krów, 18 królików, 30 kur i 2 psy. Krowy w tym gospodarstwie stanowią:

- A. 30% wszystkich zwierząt B. 12,5% wszystkich zwierząt
C. 25% wszystkich zwierząt D. 15% wszystkich zwierząt

15. Liczba 12,6 to 6% liczby:

- A. 0,126 B. 12 C. 210 D. 112,6

16. Liczba 13,5 to 9% liczby:

- A. 150 B. 143,5 C. 0,121 D. 6,5

