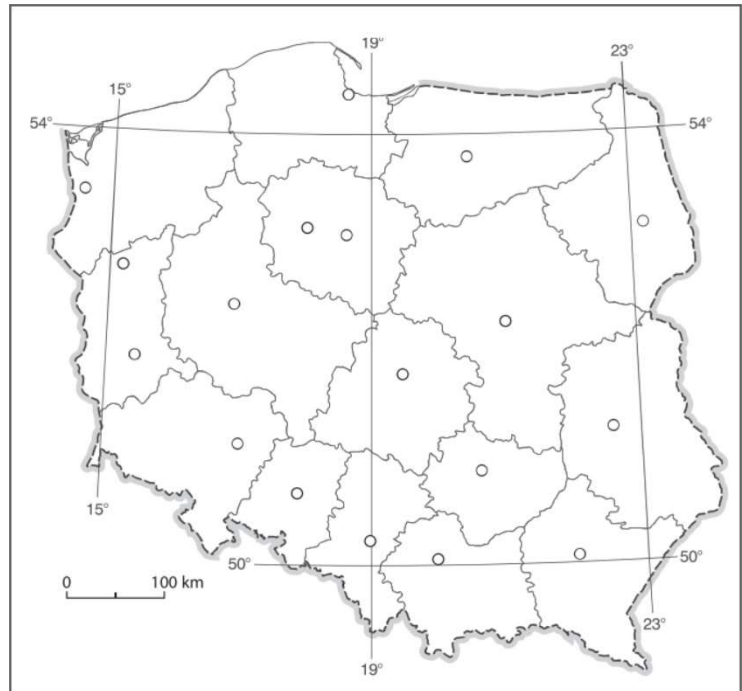


LUDNOŚĆ I URBANIZACJA W POLSCE

1. Zapisz nazwy stolic województw wymienionych poniżej. Następnie zaznacz te województwa na mapie właściwymi literami.



A. Województwo podkarpackie

-

B. Województwo podlaskie

-

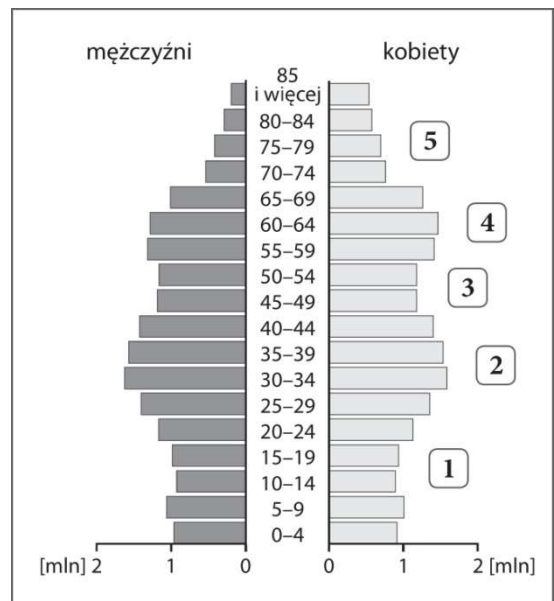
2. Na podstawie piramidy płci i wieku ludności Polski w 2015 roku wykonaj polecenia.

a) Ustal, ile dziewcząt znajduje się w przedziale wiekowym 5-9 lat.

.....

b) wypisz cyfry, którymi zaznaczono na piramidzie wyże demograficzne.

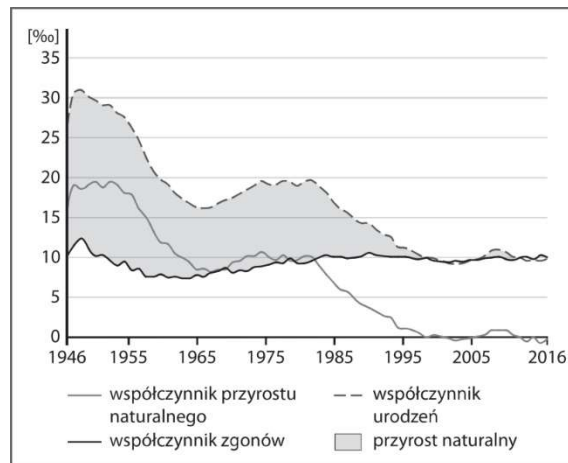
.....



3. Zaznacz zdania zawierające prawdziwe informacje.

- Liczba ludności Polski systematycznie rośnie (o 2% rocznie).
- Mimo wahań od lat 90. XX wieku liczba ludności Polski, podobnie jak i całego kontynentu, niewiele się zmienia.
- Przyrost naturalny ma duży wpływ na liczbę ludności danego kraju.

4. Na podstawie wykresu przedstawiającego ruch naturalny ludności w Polsce w latach 1946-2012 wykonaj polecenia.



a) Uzupełni tabelę odpowiednimi wartościami współczynników.

10, 13, 19, 25, 9, 32

Rok	Współczynnik urodzeń (‰)	Współczynnik zgonów (‰)	Współczynnik przyrostu naturalnego (‰)
1980			

b) Napisz, który czynnik w największym stopniu wpłynął na wartość przyrostu naturalnego w 1980 roku.

.....

5. Podaj przedział wiekowy dla ludności w wieku przedprodukcyjnym.

.....

6. Wpisz w odpowiednie miejsca, wymienione poniżej czynniki wpływające na rozmieszczenie ludności.

rzeźba terenu, możliwość znalezienia pracy, warunki klimatyczne, migracje

Czynniki przyrodnicze:

.....

Czynniki pozaprzyrodnicze:

.....

9. Zaznacz prawidłowe dokończenie zdania.

Współczynnik przyrostu rzeczywistego w województwie łódzkim wyniósł – 2,3‰.

Oznacza to, że:

→ Na każde 100 mieszkańców przybyło 2,3 osoby.

→ Na każde 100 mieszkańców ubyło 2,3 osoby.

→ Na każde 100 mieszkańców ubyło 230 osób.

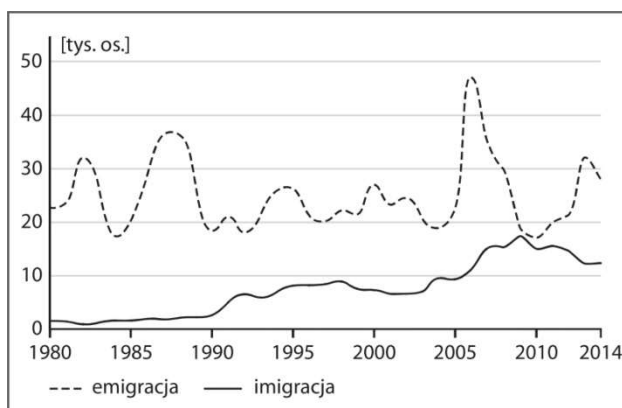
10. Podkreśl właściwe informacje dotyczące struktury narodowościowej etnicznej Polski.

→ Najliczniejszą społecznością etniczną w Polsce są *Kaszubi/Łemkowie/Ślązacy*.

→ Najliczniejszą mniejszość narodową w Polsce stanowią *Ślązacy/Niemcy/Ukraińcy*

→ najliczniejszą mniejszością etniczną w Polsce są *Romowie/Tatarzy/Żydzi*.

11. Przeanalizuj wykres i zaznacz zdania zawierające prawdziwe informacje.



→ W Polsce saldo migracji zewnętrznych jest dodatnie.

→ Najmniejszą różnicę między emigracją a imigracją zanotowano w 2009 roku.

→ Obecnie dużo więcej osób osiedla się w naszym kraju niż wyjeżdża z niego na stałe.

→ Około 2006 roku nastąpił gwałtowny wzrost liczby osób emigrujących z Polski.

12. Oceń prawdziwość informacji. Zaznacz literę P, jeśli informacja jest prawdziwa, lub literę F, jeśli jest fałszywa.

→ Największy odsetek osób pracujących w usługach odnotowano w województwie mazowieckim. P / F

→ Obecnie w rolnictwie pracuje w Polsce 28% zatrudnionych. P / F

→ Zdecydowaną większość miast w Polsce stanowią ośrodki miejskie liczące więcej niż 200 tys. mieszkańców. P / F

13. Na podstawie opisu podkreśl nazwy głównych funkcji, które pełni Częstochowa.

*usługowa, handlowa, administracyjna, przemysłowa, transportowa,
edukacyjno-naukowa, turystyczna, religijna*

Częstochowa - miasto na prawach powiatu w województwie śląskim. Znajduje się tam Jasna Góra - główny ośrodek kultu maryjnego w Polsce. W mieście funkcjonuje ponad 20 tys. Różnej wielkości przedsiębiorstw, m.in. z branży metalurgicznej i włókienniczej. Mieści się tam dziewięć wyższych uczelni, wiele muzeów i galerii.