

ŚRODOWISKO PRZYRODNICZE I LUDNOŚĆ EUROPY

1. Skreśl błędną informację w każdym z podanych zdań opisujących położenie Europy, a następnie wpisz w wyznaczone miejsce poprawną informację.

1. Leży na półkuli północnej oraz na półkulach: wschodniej i zachodniej, a przez jej terytorium przebiega równik.
2. Kontynent europejski oblewają wody Oceanu Spokojnego i Oceanu Arktycznego.
3. Europę oddziela od Afryki Morze Śródziemne, z kolei fragment granicy między Europą a Azją stanowią Karpaty.
4. Wielkie formy ukształtowania terenu w Europie, poza górami Uralu, są ułożone południkowo.
5. Najniższy punkt Europy znajduje się w Holandii i jest położony 28 m p.p.m.

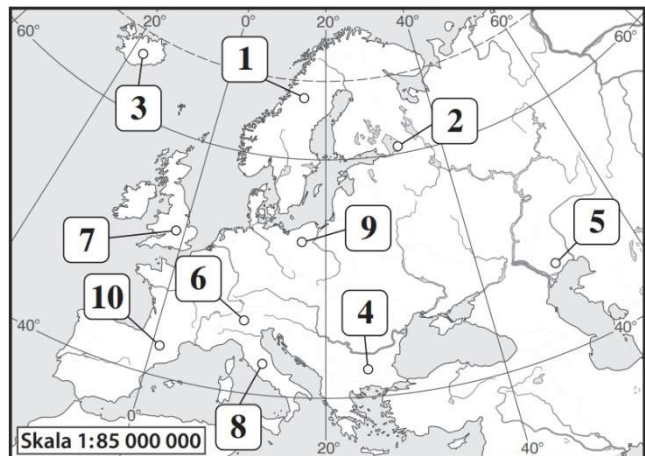
2. Uszereguj wymienione obiekty geograficzne, przez które przebiega granica Europy, zgodnie z kierunkiem przemieszczania się od Cieśniny Gibraltarskiej do północnego podnóża Kaukazu. Wpisz cyfry 1–4 we właściwych miejscach schematu.

1. Morze Czarne. 2. morze Marmara. 3. Cieśnina Bosfor. 4. Morze Śródziemne



3. Wpisz w tabeli numery, którymi oznaczono wymienione obiekty geograficzne na poniższej mapie.

Obiekt geograficzny		Numer na mapie
Półwysep Bałkański		
Islandia		
Nizina Środkowoeuropejska		
Nizina Nadkaspijska		
Alpy		
Ładoga		
Apeniny		
Wielka Brytania		
Półwysep Skandynawski		
Pireneje		



4. Zaznacz w każdym wierszu tabeli poprawne dokończenie zdania

1.	Płyty litosfery tworzą skalną powłokę Ziemi	A. tylko w obrębie kontynentów.
		B. w obrębie lądów i oceanów.
2.	Islandia leży w strefie	A. odsuwania się płyt litosfery.
		B. zderzania się płyt litosfery.
3.	Najwyższy czynny wulkan Europy – Etna – leży na granicy płyty eurazjatyckiej i płyty	A. północnoamerykańskiej.
		B. afrykańskiej

5. Islandia jest położona na granicy płyt litosfery. Podaj trzy elementy środowiska przyrodniczego, których występowanie jest skutkiem takiego położenia.

.....

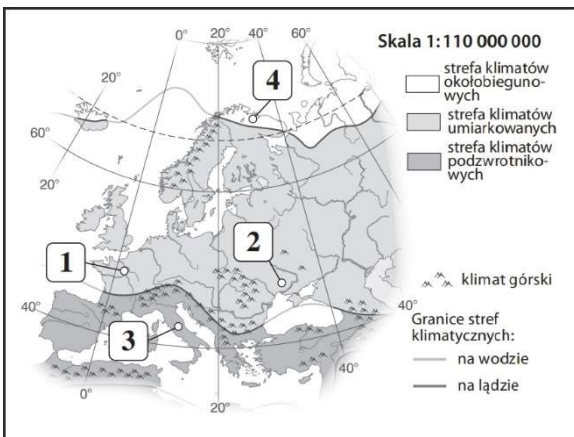
.....

.....

6. Połącz liniami cechy klimatu wymienionych miejsc w Europie z czynnikami, które ten klimat kształtują.

1. Łagodny klimat na wybrzeżu Norwegii.
 2. Wysoka temperatura latem i ciepłe zimy we Włoszech.
 3. Mroźne zimy oraz suche i upalne lata w Rosji.
- A. Ukształtowanie powierzchni.
 - B. Zróżnicowanie oświetlenia Ziemi.
 - C. Prądy morskie.
 - D. Odległość od mórz i oceanów.

7. Ustal, jaki klimat występuje na obszarach oznaczonych na mapie numerami 1–4.



Wpisz we właściwych miejscach tabeli numery, którymi oznaczono te obszary, oraz litery odpowiadające nazwom roślinności charakterystycznej dla danego klimatu.

- A. Makia. B. Lasy liściaste.
- C. Tundra. D. Step.

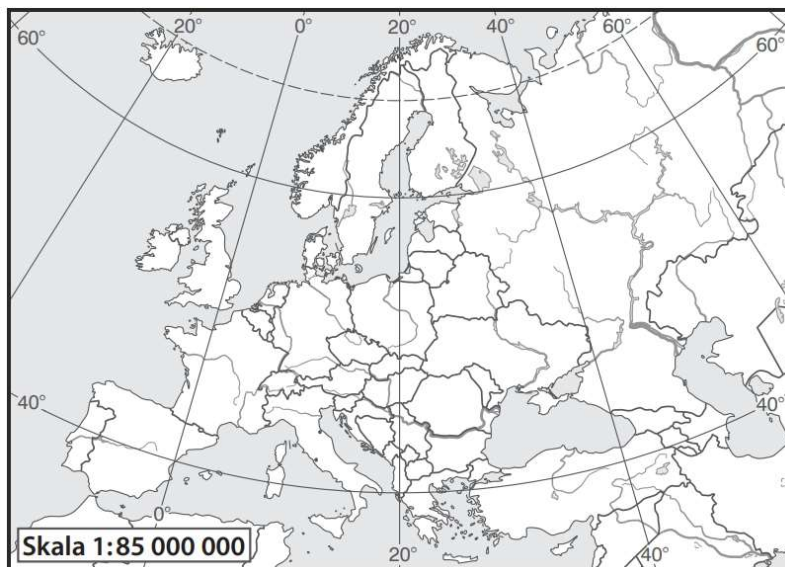
KLIMAT	NUMER NA MAPIE	ROŚLINNOŚĆ (LITERA)
umiarkowany ciepły		
morski okołobiegunowy		
podzwrotnikowy umiarkowany		
ciepły kontynentalny		

8. Wymień dwa przykłady działań Unii Europejskiej wpływających na przemiany społeczne w Europie.

.....

.....

9. Na podstawie mapy politycznej Europy podaj nazwy państw, których dotyczą poniższe opisy. Następnie wpisz nazwy państw we właściwych miejscach na mapie.



A. Jest największym państwem w Europie.

B. To państwo leży na zachód od Polski. Powstało z połączenia dwóch państw w drugiej połowie XX w.

C. Leży zarówno w Europie, jak i w Azji, a współrzędne geograficzne stolicy tego kraju wynoszą 40°N, 33°E.

D. Jest państwem wyspiarskim, jednym z najmniejszych w Europie. E. Ten kraj leży na półwyspie oraz na wyspach oddzielających Morze Bałtyckie od Morza Północnego.

10. Uszereguj kraje, których nazwy wymieniono poniżej, pod względem gęstości zaludnienia. Zaczynij od najgęściej zaludnionego.

• Polska • Islandia • Malta • Holandia

KRAJ O NAJWIĘKSZEJ GĘSTOŚCI ZALUDNIENIA	KRAJE O ŚREDNIEJ GĘSTOŚCI ZALUDNIENIA		KRAJ O NAJMNIEJSZEJ GĘSTOŚCI ZALUDNIENIA

11. Zaznacz podpunkt, w którym poprawnie przedstawiono aktualną sytuację demograficzną Europy.

- A. W większości państw europejskich rodzi się coraz więcej dzieci.
- B. Z powodu pogarszającej się opieki medycznej w społeczeństwach Europy zmniejsza się liczba osób starszych.
- C. Wśród przyczyn starzenia się społeczeństwa Europy wymienia się przewagę rodzin z jednym dzieckiem oraz poświęcenie się pracy zawodowej i realizacji własnych pasji przez młodych Europejczyków.

12. Ustal, które z informacji wymienionych w tabeli dotyczą Paryża, a które – Londynu. Wpisz znak X w odpowiednich kolumnach.

Informacja	Paryż	Londyn
To miasto jest stolicą państwa położonego na wyspie		
Każdego roku odwiedza je około 30 mln turystów		
W tym mieście znajduje się Luwr.		
Stanowi największe centrum finansowe Europy		