

USŁUGI W POLSCE

1. Podkreśl rodzaje działalności gospodarczej zaliczane do usług.

*produkcja środków transportu,
doradztwo finansowe, górnictwo ropy naftowej,
działalność administracji państwowej*

2. Przyporządkuj rodzajom transportu odpowiednie opisy (A-D)

→ Transport samochodowy -

→ Transport kolejowy -

→ Transport przesyłowy -

A. Umożliwia przewóz towarów i osób od drzwi do drzwi.

B. Tym rodzajem transportu nie przewozi się osób.

C. Dzięki pracom modernizacyjnym taboru w ostatnich latach udało się zwiększyć komfort podróży i bezpieczeństwo podróżujących.

D. Umożliwia pasażerom szybkie przemieszczanie się między kontynentami.

3. Na podstawie danych dotyczących przewozu pasażerów poszczególnymi rodzajami transportu w latach 2000 i 2015 uzupełnij zdania.

| ROK | LICZBA OSÓB PRZEWIEZIONYCH TRANSPORTEM | | | | |
|------|--|-------------------------|-------------------|---------------------------------|---------------------|
| | kolejowym (tys.) | samochodowym* (tys.) | morskim (tys.) | wodnym śródlądowym (tys.) | lotniczym (tys.) |
| 2000 | 360 687 | 954 515 | 625 | 1 265 | 5 793 |
| 2015 | 277 321 | 416 774 | 597 | 1 762 | 7 288 |

* Dotyczy transportu samochodowego zarobkowego.

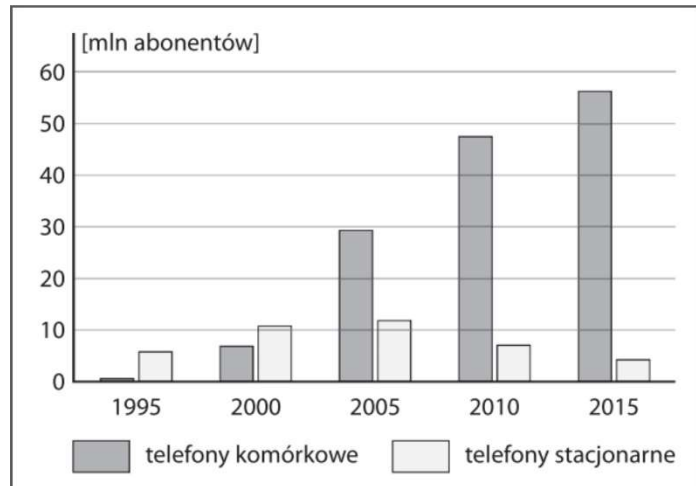
a) W 2015 roku najwięcej osób podróżowało transportem

b) W 2000 roku transportem wodnym przewieziono tys. pasażerów.

c) W latach 2000-2015 zmniejszyła się liczba osób przewiezionych między innymi transportem

d) Z transportu korzysta mniej niż 1 mln pasażerów.

4. Na podstawie wykresu przedstawiającego liczbę abonentów telefonii stacjonarnej i komórkowej w Polsce w latach 1995-2015 podkreśl poprawne informacje w poniższych zdaniach.



- a) W latach 1995-2005 liczba abonentów telefonii stacjonarnej *malą / wzrastała*.
- b) W 2010 roku liczba abonentów telefonii komórkowej przewyższała liczbę abonentów telefonii stacjonarnej około *2,5-krotnie / 6,5-krotnie*.

5. Podaj dwa przykłady wpływu transportu kolejowego na jakość życia mieszkańców.

→

→

6. Dopasuj do opisów celów wyjazdów turystycznych właściwy rodzaj turystyki wybrany spośród podanych.

poznawcza, religijna, wypoczynkowa, lecznicza

→ Dwutygodniowy wyjazd do sanatorium w Szczawnicy.

.....

→ Uczestnictwo w pieszej pielgrzymce na Jasną Górę.

.....

→ Tygodniowy rajd rowerowy Świętokrzyskim Szlakiem Archeo-Geologicznym.

.....

7. Wpisz w odpowiednie miejsca poniższe określenia.

liczne jeziora, parki narodowe, miejsca kultu religijnego, zabytkowe kopalnie, występowanie wód leczniczych, zamki i pałace

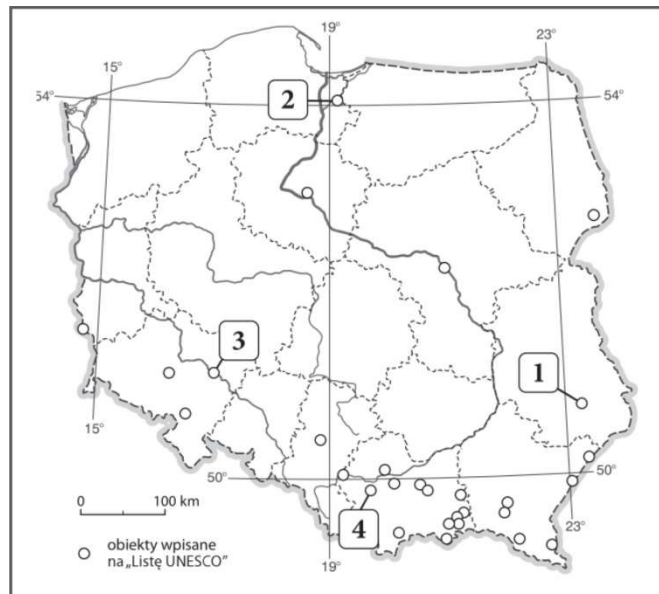
Walory przyrodnicze –

.....

Walory kulturowe –

.....

8. Przyporządkuj nazwom obiektów wpisanych na Listę UNESCO cyfry, którymi zaznaczono te obiekty na mapie.



→ Stare Miasto w Zamościu –

→ Kalwaria Zebrzydowska: manierystyczny zespół architektoniczny i krajobrazowy oraz park pielgrzymkowy –

→ Zamek krzyżacki w Malborku –

→ Hala Stulecia we Wrocławiu –

9. Wyjaśnij, kiedy saldo bilansu handlowego jest dodatnie

.....

.....

.....

.....

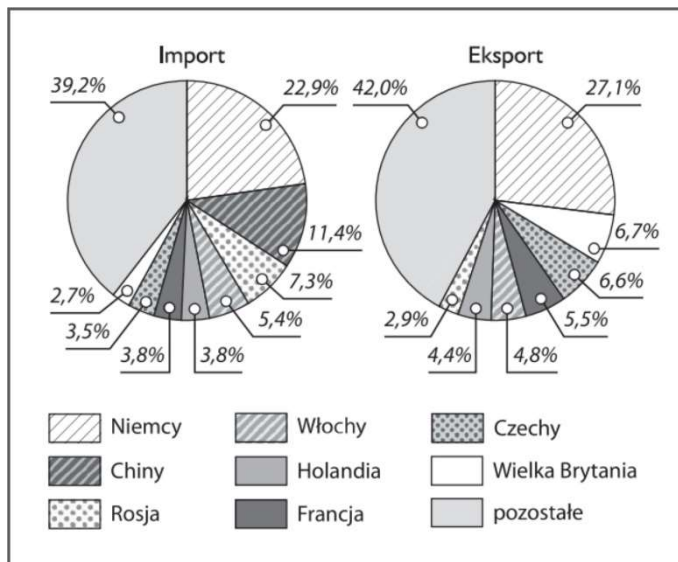
.....

10. Podkreśl nazwy trzech towarów eksportowych, z których Polska słynie na świecie.

meble, komputery osobiste, produkty mleczarskie,

węgiel brunatny, mrożonki, statki pasażerskie

11. Na podstawie wykresów przedstawiających głównych partnerów handlowych Polski w 2015 roku wykonaj polecenia.



a) Uzupełnij zdanie właściwą nazwą państwa.

Główny partner handlowy Polski w imporcie to

b) Zaznacz poprawne dokończenie zdania.

W 2015 roku Polska miała ujemne saldo handlu zagranicznego m.in. z:

→ Holandią i Niemcami.

→ Rosją i Włochami.

→ Czechami i Chinami.

12. Uzupełnij schemat tak, aby prawidłowo przedstawiał proces powstawania kwaśnych opadów.

A. Spalanie węgla kamiennego i emitowanie do atmosfery między innymi tlenku siarki oraz tlenku węgla(IV).

B. Powstawanie kwaśnych opadów.

C. Zakwaszenie gleb i wód.

D. Obumieranie roślin.

E. Reakcja tlenków siarki i azotu z parą wodną.

B → → → → →

13. Oceń prawdziwość informacji. Zaznacz P, jeśli informacja jest prawdziwa, lub F, jeśli jest fałszywa

→ Do substancji szkodliwych dla atmosfery zalicza się między innymi tlenek siarki(IV), tlenki azotu i metale ciężkie. P / F

→ Najbardziej zanieczyszczonym regionem w Polsce jest Nizina Podlaska. P / F

→ Zanieczyszczenie środowiska nie ma większego wpływu na zdrowie ludzi. P / F

→ Eutrofizacja to inaczej nadmierne użyźnienie wód. P / F