

KRAJOBRAZY POLSKI CZĘŚĆ 2

1. Ponumeruj zdania od 1 do 5 tak, aby poprawnie przedstawiały kolejne etapy powstania obecnego krajobrazu Wyżyny Śląskiej.

..... Powstanie kopalń.

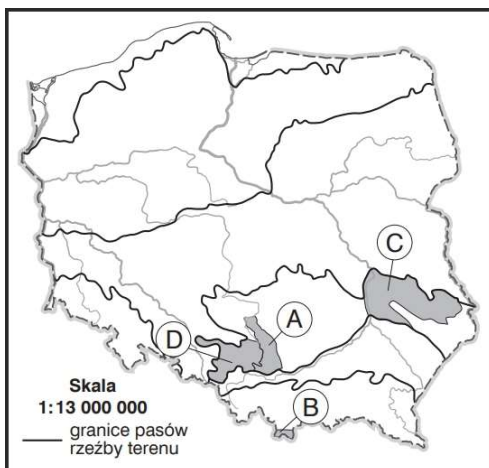
..... Odkrycie węgla kamiennego.

..... Słabo zaludniona kraina porośnięta lasem.

..... Utworzenie krajobrazu miejsko-przemysłowego.

..... Wybudowanie osiedli i miasteczek wokół miejsc wydobywania węgla.

2. Na mapie literami A–D zaznaczono wybrane krainy geograficzne Polski, a na fotografiach przedstawiono dziedzictwo kulturowe tych krain. Wykonaj polecenia na podstawie zaprezentowanych materiałów.



a) Zapisz nazwy krain geograficznych zaznaczonych na mapie literami A–D.

A.

B.

C.

D.

b) Wpisz właściwe litery w puste miejsca na fotografiach prezentujących dziedzictwo kulturowe krain zaznaczonych na mapie.



3. Podaj na podstawie opisu nazwę formy terenu oraz nazwę krainy geograficznej, dla której ta forma jest charakterystyczna.

OPIS: Dolina o stromych zboczach. Ma wąskie dno, którym okresowo płynie woda.

Forma terenu: Kraina geograficzna:

4. Dokończ zdanie. Wybierz odpowiedzi A lub B oraz 1 lub 2. Wyżyna Lubelska to ważna pod względem rolniczym kraina w naszym kraju. W uprawach przeważa tam między innymi:

A. *żyto*, co jest związane z występowaniem 1. *żyźnych gleb – czarnoziemów i płowych* / 2. *mało żyźnych gleb biellicowych*.

B. *pszenica*, co jest związane z występowaniem 1. *żyźnych gleb – czarnoziemów i płowych* / 2. *mało żyźnych gleb biellicowych*.

5. Uzupełnij zdania.

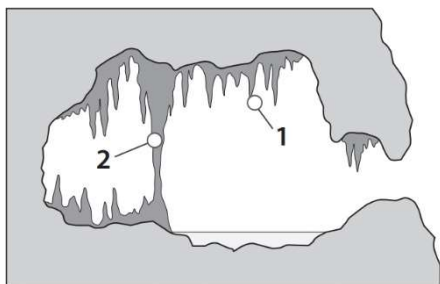
Wyżynę Krakowsko-Częstochowską budują głównie skały

Tworzą one charakterystyczny dla tej krainy krajobraz

Powstał on w wyniku rozpuszczania tych skał przez wodę i zawarty w niej

.....

6. Na rysunku przedstawiono wybrane formy skalne, które występują w jaskiniach. Zapisz nazwy form, które na rysunku oznaczono cyframi 1 i 2.



1.

2.

7. Na krajobraz Tatr składa się wiele ciekawych form skalnych. Wybierz i podkreśl poprawne dokończenia zdań.

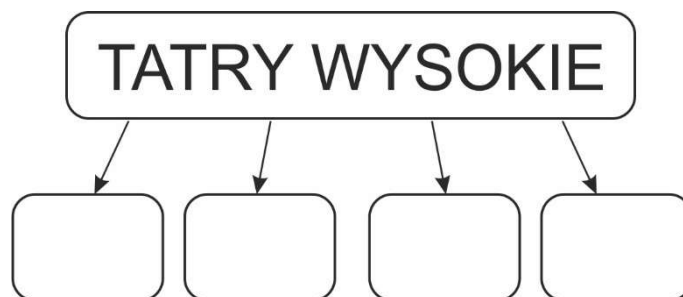
A. Usypiska z odłamków skalnych to *granie* / *stożki piargowe*.

B. Długie i malownicze formy polodowcowe to *doliny* / *turnie*.

C. Wąskie i długie grzbiety to *przełęcz* / *granie*.

8. Wybierz i wpisz do diagramu numery tych nazw, które pasują do krajobrazu Tatr Wysokich.

1. Morskie Oko.
2. Wielka Jaskinia Śnieżna.
3. Dolina Pięciu Stawów Polskich.
4. Dolina Chochołowska.
5. Rysy.
6. Skały wapienne.
7. Dolina Kościeliska.
8. Skały granitowe.



9. Oceń, czy podane informacje dotyczące pogody w górach są zgodne z prawdą. Zaznacz literę P, jeśli informacja jest prawdziwa, lub literę F – jeśli jest fałszywa.

1. Temperatura powietrza wzrasta o około $0,6^{\circ}\text{C}$ co 100 m n.p.m. P / F
2. Im wyżej, tym mniejsze są opady atmosferyczne. P / F
3. W wysokich partiach gór wiatr wieje mocniej niż u ich podnóża. P / F

10. Podkreśl nazwy tych spośród podanych gatunków roślin i zwierząt, które są chronione w Tatrzańskim Parku Narodowym.

• *limba* • *nietoperz* • *kozica* • *brzoza ojcowska*