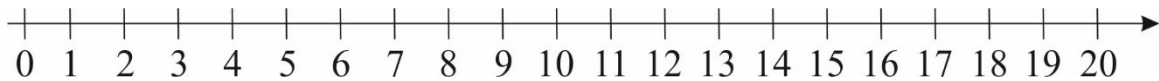
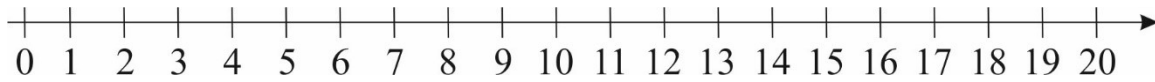


## WŁASNOŚCI LICZB NATURALNYCH

1. Zaznacz na osi liczbowej przynajmniej 5 wielokrotności liczby 3.



2. Zaznacz na osi liczbowej przynajmniej 8 wielokrotności liczby 2.



3. Zaznacz w kółko te liczby, przez które jest podzielna liczba 140.

2      3      4      5      9      10      25      100

4. Zaznacz w kółko, przez które jest podzielna liczba 150.

2      3      4      5      9      10      25      100

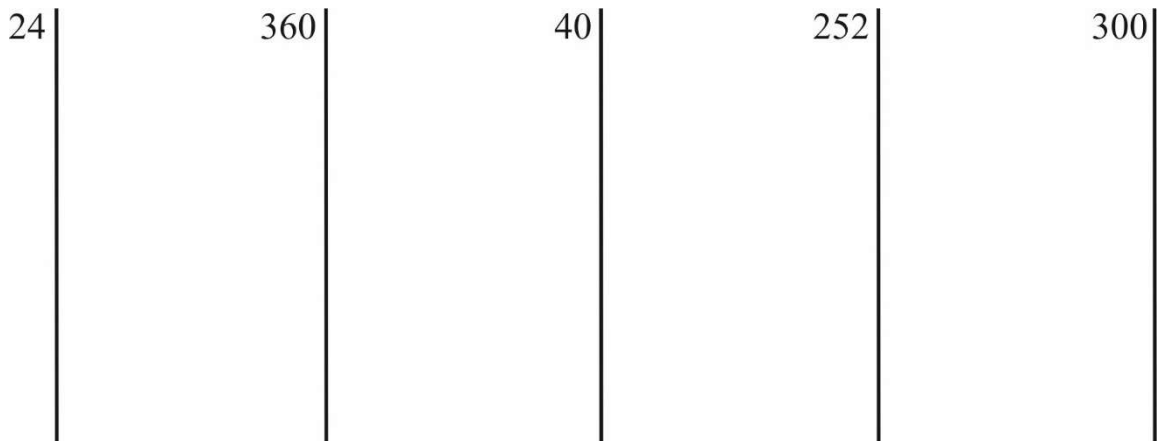
5. Który ze zbiorów zawiera tylko liczby złożone?

A. {18, 19, 20, 21}    B. {12, 14, 16, 18}    C. {0, 6, 12, 18}    D. {11, 12, 13, 14}

6. Który ze zbiorów zawiera tylko liczby pierwsze?

A. {1, 3, 5, 7, 11}    B. {0, 1, 3, 5, 7}    C. {3, 5, 7, 11}    D. {11, 13, 15, 17}

7. Rozłóż na czynniki podane liczby:



24 = .....

360 = .....

40 = .....

252 = .....

300 = .....

